

2016 年中华人民共和国普通高等学校 联合招收华侨、港澳地区、台湾省学生入学考试 地 理

一、选择题：本大题共 20 小题，每小题 3 分。在每小题给出的四个选项中，只有一项是符合题目要求的。

图 1 示意某地气温和降水资料。读图 1，完成 1-2 题。

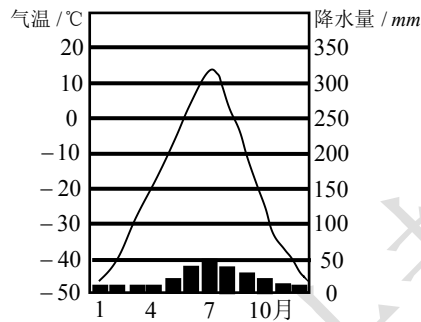


图 1

1. 该地的地带性植被是 ()
 - A. 亚寒带针叶林
 - B. 针阔叶混交林
 - C. 温带森林草原
 - D. 落叶阔叶林

2. 该地可能位于 ()
 - A. 印度
 - B. 俄罗斯
 - C. 挪威
 - D. 智利

图 2 为某人口超过 1 亿的国家不同年份人口年龄和性别结构变化。读图 2，完成 3-4 题。

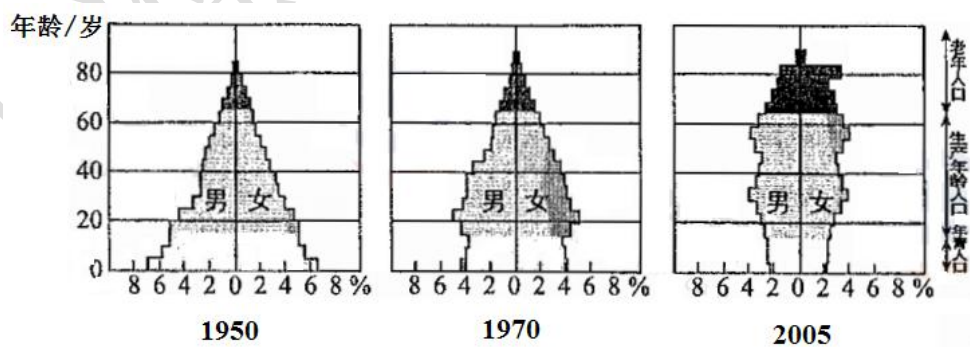


图 2

3. 根据图示信息判断，该国 ()
 - A. 1950 年劳动力最充足
 - B. 1970 年人口增长最快
 - C. 2005 年老年女性人口超过老年男性人口
 - D. 人口自然增长率持续增高

4. 当前，该国人口面临的主要问题是 ()
- A. 数量急剧增加 B. 老龄化严重
C. 新生儿男女比例失衡 D. 有大量剩余劳动力
5. 下列大河中，流向大致与地球自转方向一致的是 ()
- A. 尼罗河 B. 亚马孙河
C. 刚果河 D. 密西西比河
6. 可能由地震直接引发的自然灾害是 ()
- A. 台风 B. 寒潮
C. 海啸 D. 龙卷风

图3为某国能源消费构成的变化。读图3，完成7-8题。

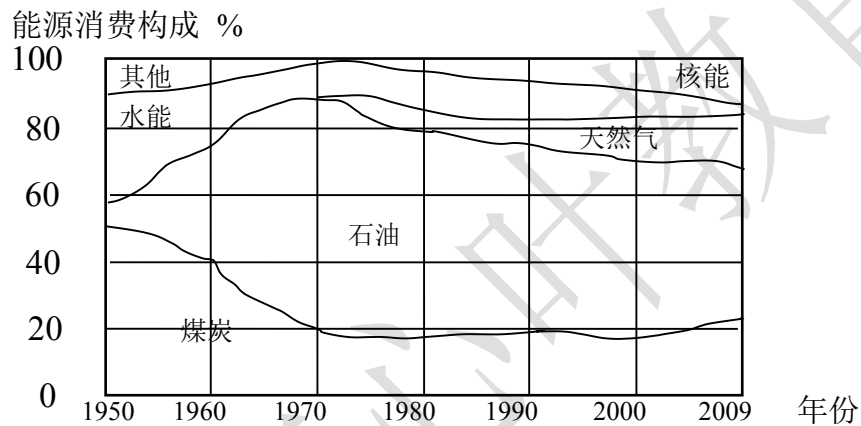


图3

7. 1950-2009年，该国 ()
- A. 煤炭比重持续下降 B. 能源消费构成渐趋多元化
C. 石油消费量大幅下降 D. 水能渐趋枯竭
8. 该国可能是 ()
- A. 印度 B. 巴西
C. 日本 D. 中国
9. 下列钢铁工业企业中，远离原料、燃料产地而临近市场布局的是 ()
- A. 鞍钢 B. 攀钢
C. 唐钢 D. 宝钢
10. 我国在甘肃酒泉建设有“陆上三峡”之称的大型能源基地，开发的能源是 ()
- A. 风能 B. 水能
C. 太阳能 D. 核能
11. 世界很多国家共同签订的《京都议定书》，应对的全球性环境问题是 ()
- A. 生物多样性锐减 B. 环境污染
C. 南极“臭氧空洞” D. 全球变暖

12. 下列各组地貌景观中, 形成景观的主要作用力相同的一组是 ()
- A. 长白山天池、杭州西湖 B. 黄山怪石、野柳怪石
- C. 云南石林、桂林山水 D. 长江三峡、东非大裂谷
13. 下列国家天然气产量最多的是 ()
- A. 俄罗斯 B. 美国
- C. 中国 D. 英国
14. 地中海沿岸典型的经济作物是 ()
- A. 大豆 B. 花生
- C. 油橄榄 D. 甜菜
15. 下列国家中, 是世界重要稻米出口国的是 ()
- A. 孟加拉国 B. 泰国
- C. 土耳其 D. 委内瑞拉
16. 与北半球信风风向相同的是 ()
- A. 亚欧大陆东岸夏季风 B. 北印度洋的冬季风
- C. 越过赤道的南半球信风 D. 南极地区极地东风
17. 下列城市中, 一年内太阳升起的方位变化最大的是 ()
- A. 柏林 B. 罗马
- C. 开罗 D. 科伦坡
18. 在北方冬季, 人们常说“雪后寒”。雪后气温下降的主要原因是 ()
- A. 到达地表的太阳辐射减少 B. 地面辐射增强
- C. 大气辐射增强 D. 地表反射率增加
19. 成都附近著名古代水利工程是 ()
- A. 郑国渠 B. 都江堰
- C. 灵渠 D. 邗沟
20. 1月平均气温成都(5.5℃)比同纬度武汉(3℃)高, 主要原因是成都比武汉 ()
- A. 地势较低 B. 受冬季风影响较弱
- C. 离海较远 D. 云雾较少

二、填充题(共20分) 本题共20个空格, 每填对一空得1分。(请将答案填写在答题卡相应空格内)

21. 德国最大的港口城市是位于_____河河口的_____；德国南部最大的工业城市是_____。荷兰的最大港口城市是位于_____河河口的_____。
22. 地跨亚非两大洲的国家是_____，它北临_____海，东临_____海，首都都是_____，最大的港口是_____港。
23. 世界区域经济一体化的组织主要有欧洲的_____；亚洲的_____；北美

的_____；拉丁美洲的_____和_____。

24. 智利北部的气候类型是_____气候，其形成原因主要是东部有高大的_____山脉的阻挡，处于_____（盛行风）的背风坡，西侧海洋中有著名的_____（洋流）经过，对沿岸地区气候产生了显著的_____作用。

三、读图、填图题（每项 2 分，共 40 分）（请将答案填写在答题卡相应的空格内）

25. 读图 4，回答国家名称。

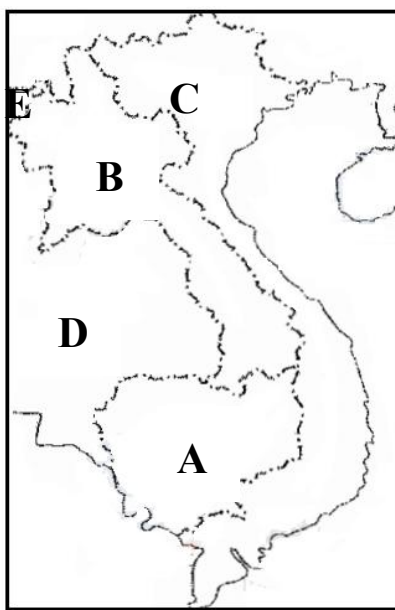


图 4

A 是_____； B 是_____；

C 是_____； D 是_____； E 是_____。

26. 读图 5，回答农业带的名称

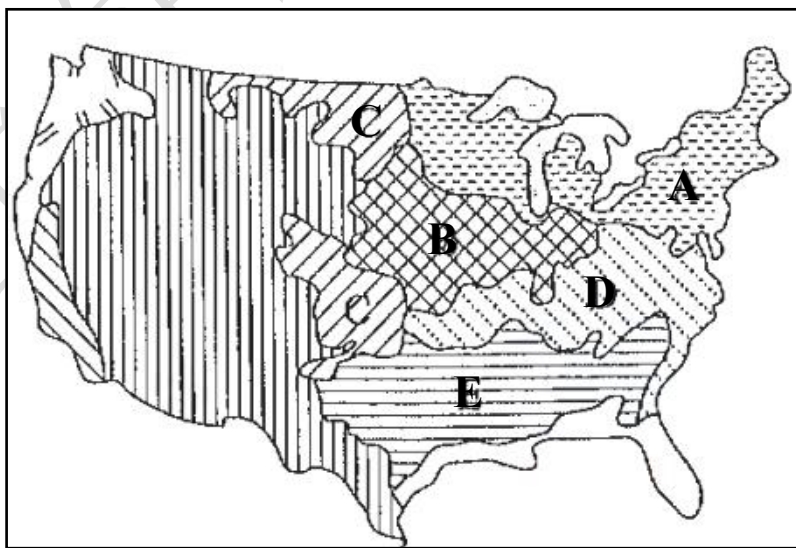


图 5

A 是_____； B 是_____；

C 是_____；D 是_____；E 是_____。

27. 读图 6，将图中字母代表的地理事物名称填写在相应的空格中。

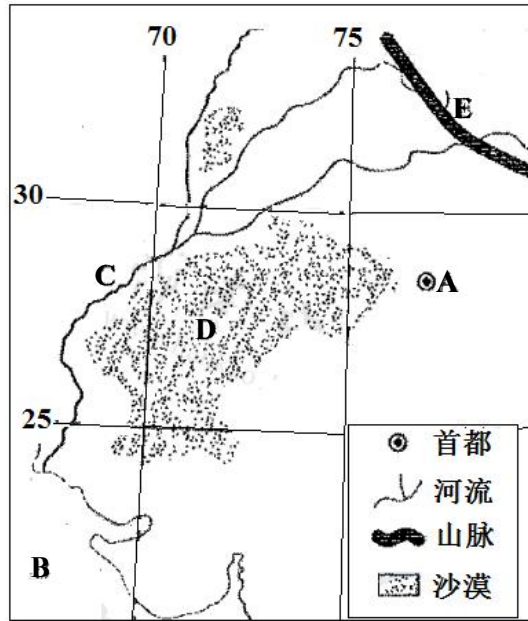


图 6

A 城市是_____；B 是_____海；

C 是_____河；D 是_____沙漠；E 是_____山脉

28. 图 7 示意俄罗斯主要地形单元的分布模式。读图 7，将图中字母代表的地理事物名称填写在相应的空格中。

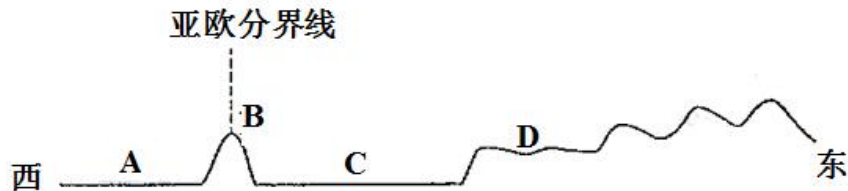


图 7

A 是_____平原；B 是_____山脉，

C 是_____平原；D 是_____高原；E 是_____山地。

四、综合题（共 30 分）

29. 图 8 示意加拿大人口和城市分布。读图 8，说明加拿大人口和城市分布的特点及原因。

（15 分）

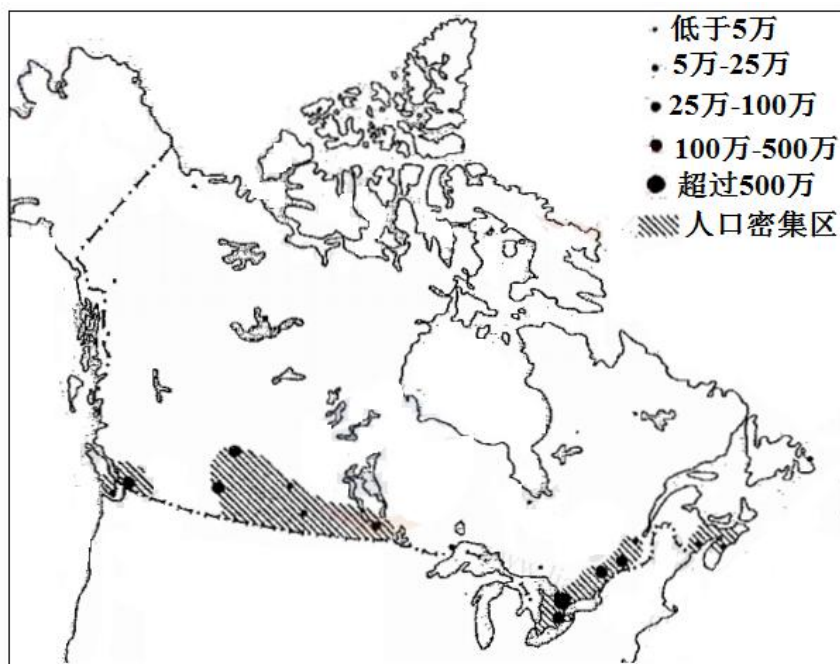


图 8

30. 简述美国五大湖地区发展钢铁工业的条件。(15分)